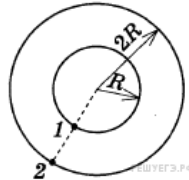
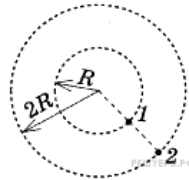


Движение по окружности**1. Задание 1 № 3455**

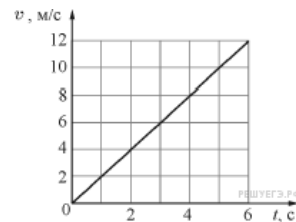
Два велосипедиста совершают кольцевую гонку с одинаковой угловой скоростью. Положения и траектории движения велосипедистов показаны на рисунке. Чему равно отношение линейных скоростей велосипедистов $\frac{v_1}{v_2}$?

**2. Задание 1 № 3463**

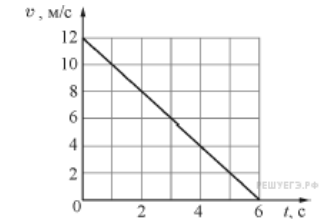
Два велосипедиста совершают кольцевую гонку с одинаковой угловой скоростью. Положения и траектории движения велосипедистов показаны на рисунке. Чему равно отношение центростремительных ускорений велосипедистов $\frac{a_2}{a_1}$?

**3. Задание 1 № 6109**

Материальная точка движется по окружности радиусом 4 м. На графике показана зависимость модуля её скорости v от времени t . Чему равен модуль центростремительного ускорения точки в момент $t = 3$ с? (Ответ дайте в метрах в секунду в квадрате.)

**4. Задание 1 № 6144**

Материальная точка движется по окружности радиусом 4 м. На графике показана зависимость модуля её скорости v от времени t . Чему равен модуль центростремительного ускорения точки в момент $t = 5$ с? (Ответ дайте в метрах в секунду в квадрате.)

**5. Задание 1 № 6188**

Верхнюю точку моста радиусом 100 м автомобиль проходит со скоростью 20 м/с. Чему равно центростремительное ускорение автомобиля? (Ответ дайте в метрах в секунду в квадрате.)

6. Задание 1 № 6223

Спутник движется по круговой орбите радиусом $6,6 \cdot 10^6$ м, имея скорость 7,8 км/с. Чему равно центростремительное ускорение спутника? (Ответ дайте в метрах в секунду в квадрате и округлите до десятых.)

7. Задание 1 № 6260

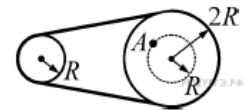
Груз, подвешенный на нити длиной 2 м, отведён в сторону и отпущен. Нижнюю точку траектории он проходит со скоростью 1,4 м/с. Найдите центростремительное ускорение груза в нижней точке траектории. (Ответ дайте в метрах в секунду в квадрате и округлите до целых.)

8. Задание 1 № 6296

Автомобиль движется по окружности радиусом 100 м со скоростью 10 м/с. Чему равно центростремительное ускорение автомобиля? (Ответ дайте в м/с^2 .)

9. Задание 1 № 8407

Два вращающихся вала соединены замкнутым ремнём, который не проскальзывает относительно валов. Радиус первого вала равен R , радиус второго вала равен $2R$. Чему равно отношение угловой скорости точки A к угловой скорости вращения первого вала $\frac{\omega_A}{\omega_1}$?

**10. Задание 1 № 10173**

Велосипедист едет по кольцевому велотреку диаметром 200 м с постоянной по модулю скоростью. За минуту он проезжает путь, равный трём диаметрам трека. Чему равен модуль ускорения велосипедиста? Ответ выразите в м/с^2 .

11. Задание 1 № 10242

Велосипедист едет по кольцевому велотреку диаметром 200 м с постоянной по модулю скоростью. За минуту он проезжает путь, равный девяти радиусам трека. Чему равен модуль ускорения велосипедиста?